


Primer ejercicio práctico para el uso de los diversos modos de direccionamiento de coordenadas en conjunción con la Orden LÍNEA.

DESCRIPCIÓN:

Trazar los siguientes rectángulos según el texto especificado al pie de cada uno. Las medidas de todos los rectángulos son iguales, 75 x 35 unidades.

D



C (104,254)

Realizarlo por medio de coordenadas absolutas. Trazar la recta "DA" con la opción "cierra" de la orden LÍNEA.


A

(29,219)

B (104,219)

E

(29,161)




Realizarlo por medio de coordenadas relativas. Ubicar el vértice E con coordenadas absolutas.

F

(29,102)



Realizarlo por medio de coordenadas polares. Ubicar el vértice F con coordenadas absolutas.



Fecha
00/00/00

Practica de Coordenadas

Nombre
XXXXXX

Curso Oficial de AutoCAD

